


Решение всех прототипов №24. Часть 2

1

Точка K — середина боковой стороны CD трапеции $ABCD$. Докажите, что площадь треугольника KAB равна половине площади трапеции.


2

Известно, что около четырёхугольника $ABCD$ можно описать окружность и что продолжения сторон AB и CD четырёхугольника пересекаются в точке M . Докажите, что треугольники MBC и MDA подобны.



3

В выпуклом четырёхугольнике $ABCD$ углы CDB и CAB равны. Докажите, что углы BCA и BDA также равны.



4


В остроугольном треугольнике ABC проведены высоты AA_1 и CC_1 . Докажите, что углы CC_1A_1 и CAA_1 равны.

5

В треугольнике ABC с тупым углом BAC проведены высоты BB_1 и CC_1 . Докажите, что треугольники AB_1C_1 и ABC подобны.

6

Окружности с центрами в точках M и N пересекаются в точках S и T , причём точки M и N лежат по одну сторону от прямой ST . Докажите, что прямые MN и ST перпендикулярны.



7

Окружности с центрами в точках I и J не имеют общих точек, и ни одна из них не лежит внутри другой. Внутренняя общая касательная к этим окружностям делит отрезок, соединяющий их центры, в отношении $m : n$. Докажите, что диаметры этих окружностей относятся как $m : n$.